


科目 數學 年級 二年 班 座號

姓名

一、選出正確的答案。(每題 2 分)

- () 下面哪一個長度最接近 1 公尺?
① 教室走廊的長度 ② 教室黑板的長度
③ 我的手臂打開伸直的長度。
- () 一打鉛筆 12 枝，買 2 打又 5 枝，算式可以寫成
① $12+2=14$, $14+5=19$ ② $12 \times 2=24$, $24+5=29$
③ $12-2=10$, $10+5=18$
- () 育成是在 31 日出生的，他的生日可能是哪一個月?
① 2 月 ② 11 月 ③ 3 月。
- () $\frac{1}{8}$ 塊蔥油餅的 8 是什麼意思?
① 8 種口味 ② 1 塊等分成 8 份 ③ 8 塊蔥油餅
- () 下列哪一個數量可以平均分給 4 個人?
① 36 顆球 ② 26 顆球 ③ 42 顆球

二、填填看看。(每個答案 2 分)

- 一間教室大約和正字的 15 步一樣長，2 間教室大約和正字的 () 步一樣長。
- 維恩 一步大約長 50 公分，升旗臺的一邊和維恩 的 4 步一樣長，升旗臺的一邊大約長 () 公尺。
- 桌上有 30 個布丁。
(1) 每 6 個分給 1 個人，可以分給 () 個人。
(2) 每 10 個分給 1 個人，可以分給 () 個人。
- 民國 110 年 1 月 1 日的前一天是民國 () 年 () 月 () 日。
- 22 個月也可以說是 () 年 () 個月。玩具展一連舉辦 5 個星期，是 () 天。
- 有 30 個人參加划船比賽，每艘船坐 6 個人，共需要 () 艘船。
- 老師把 1 條線等分給 7 個人做小話筒，每人拿到 () 條線。用分數填填看看。


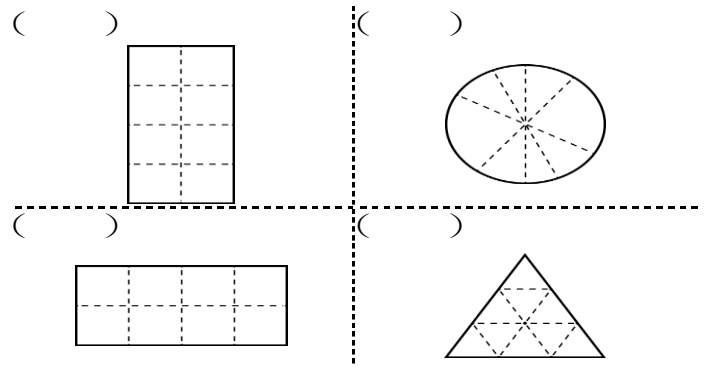
8. 先圈圈看看，再填填看看。(畫圈不計分)

11月						
日	一	二	三	四	五	六
	1	2	3	4	5	6
7	8	9	10	11	12	13
14	15	16	17	18	19	20
21	22	23	24	25	26	27
28	29	30				

文化公園舉辦 1 個星期的音樂會，在 11 月 27 日結束。音樂會是從 () 月 () 日開始。

三、圈圈看看。(每個答案 1 分)

- 5 隻小螞蟻要搬走等分成 8 份的餅乾，下面正確的答案畫 O，錯誤的畫 X。



- 這個暑假有 3 個小朋友去旅行，回答下面問題。

7月							8月						
日	一	二	三	四	五	六	日	一	二	三	四	五	六
				1	2	3	1	2	3	4	5	6	7
4	5	6	7	8	9	10	8	9	10	11	12	13	14
11	12	13	14	15	16	17	15	16	17	18	19	20	21
18	19	20	21	22	23	24	22	23	24	25	26	27	28
25	26	27	28	29	30	31	29	30	31				

- 安安：7 月 28 日到 8 月 1 日在花蓮旅遊
芳琪：8 月 4 日到 8 月 13 日在南投旅遊
文豪：7 月 11 日到 7 月 17 日在澎湖旅遊
- 哪一個小朋友最先去旅遊?
(安安 , 芳琪 , 文豪)
 - 哪一個小朋友的旅遊時間最長?
(安安 , 芳琪 , 文豪)

3. 圈出適當的單位。

- 一瓶洗衣精的高度大約是 25 (公分 , 公尺)。

(2) 一臺電視機的長度大約是 1

(公分 , 公尺)。

(3) 一輛公共車的長度大約是 11

(公分 , 公尺)。

4. 比比看，圈圈看。

1) 個披薩，姐姐吃了 $\frac{1}{5}$ 個，妹妹吃了 $\frac{1}{3}$ 個，(姐姐 , 妹妹) 吃的披薩比較多。

四、比比看 (每個答案 2 分)

1. 樹王子、花仙女和獅子王在比身高，下面是他們在檢查時所量出的身高，按照由高到矮依序填入 1、2、3。

- () (1) 樹王子身高 5 公尺 5 公分。
- () (2) 花仙女身高 150 公分。
- () (3) 獅子王身高 1 公尺 15 公分。

2. 比較長的長度畫 O，比較短的畫 X。

- () (1) 教室的長度有 12 步長。
- () (2) 一條繩子大約 12 呎長。

3. 花的錢比較多畫 O，比較少的畫 X。

菜單	
水餃	一顆 4 元
酸辣湯	一碗 30 元
紫菜湯	一碗 25 元

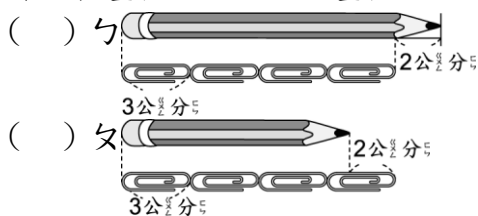
- () 小律點了 10 顆水餃和一碗酸辣湯
- () 小奇點了 11 顆水餃和一碗紫菜湯

4. 可以剛好分完的畫 O，不能的畫 X。

- () (1) 有 63 顆巧克力，平分給 9 個人。
- () (2) 有 18 張色紙，平分給 3 個小朋友。
- () (3) 有 40 顆茶葉蛋，平分給 6 個人。

五、看看圖填填看 (每個答案 2 分)

1. 一個迴紋針長 3 公分，迴紋針的 4 倍長再少 2 公分，就是鉛筆的長度。下面的圖正確請畫 O，錯誤畫 X，再算出長度。



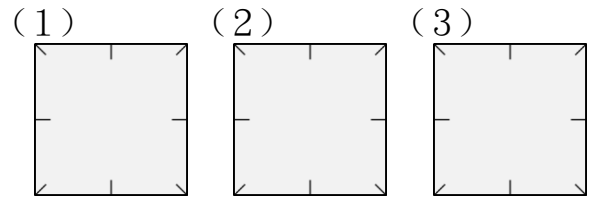
鉛筆長 () 公分。

2. 把 1 張色紙等分成 2 份，可以怎麼分？

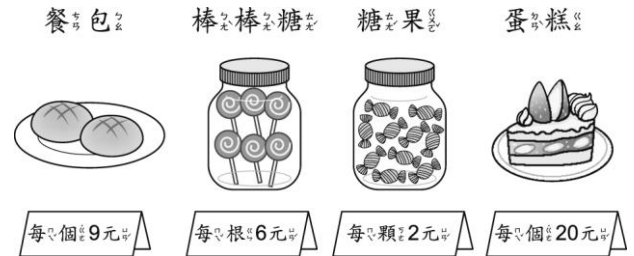
請畫出 3 種分法：



1 張色紙



3.



- (1) 小彤買 6 根棒棒糖和 6 顆糖果，共要付 () 元。
- (2) 媽媽買 2 個餐包比買 2 個蛋糕可以少付 () 元。

六、寫出算式做做看 (每題 4 分)

1. 一盒膠水有 8 瓶，老師有 9 盒，發給小朋友後剩下 6 瓶，老師發了幾瓶膠水？

答：

2. 餅乾一盒原價 95 元，今天特價 88 元，媽媽買了 7 盒，便宜多少元？

答：

3. 小君想買 20 元的布偶，他每天存 5 元，最少要存幾天才能買？

答：

4. 一本繪本有 27 頁，文祐想要在 9 天看完，文祐必須一天看幾頁才能看完？

答：